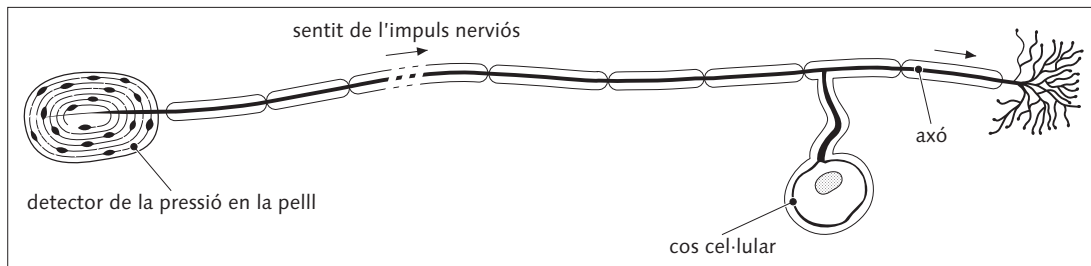
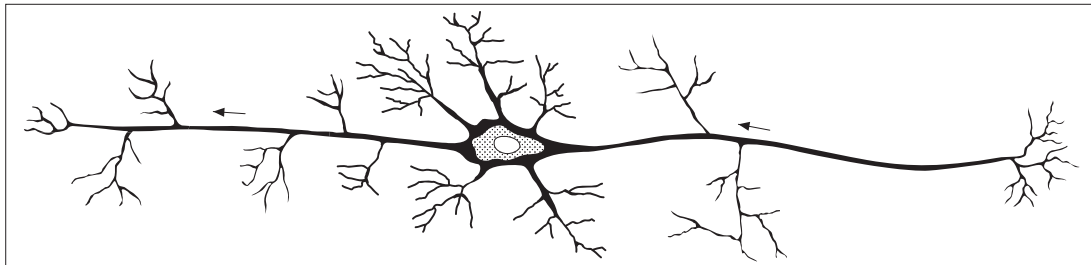
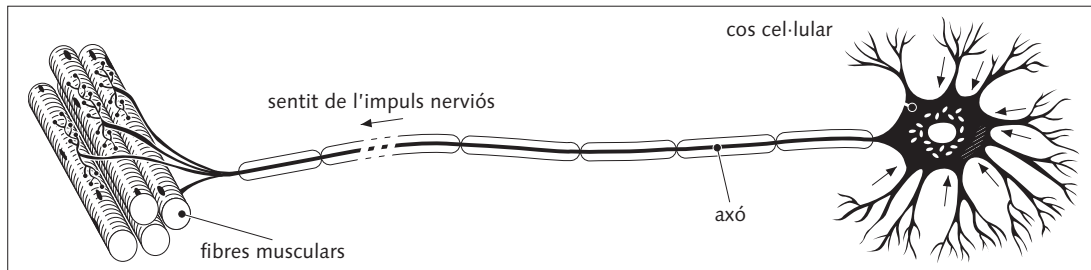


# 14. Neurones

## Activitats

- 1** Analitza els esquemes dels tres tipus de neurones que mostrem a continuació i decideix l'esquema que representa una neurona sensorial, el que representa una neurona motora i el que correspon a una neurona d'associació.



- 2** Quin tipus de neurona pot tenir danyada una persona que no sent dolor a la mà dreta?  
Raona la resposta.

- 3** I si no pot moure la mà esquerra?

- 4** Per què es diu que les neurones són cèl·lules molt especialitzades?